
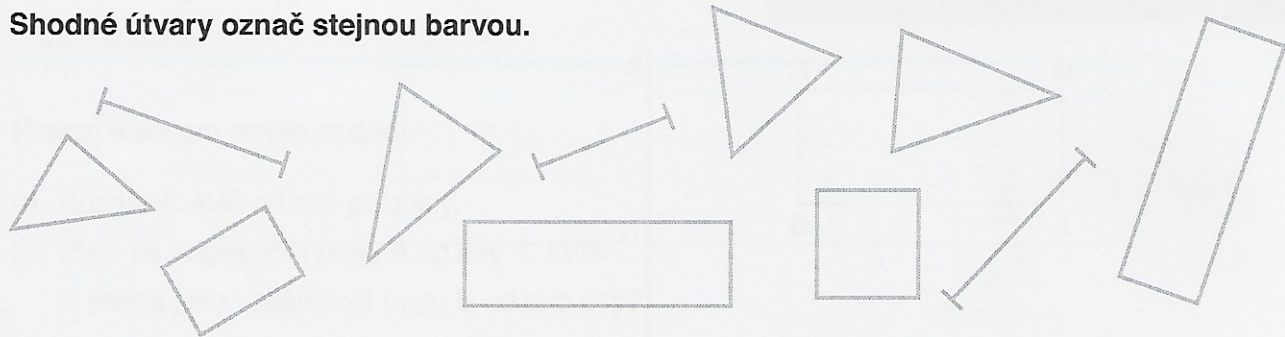


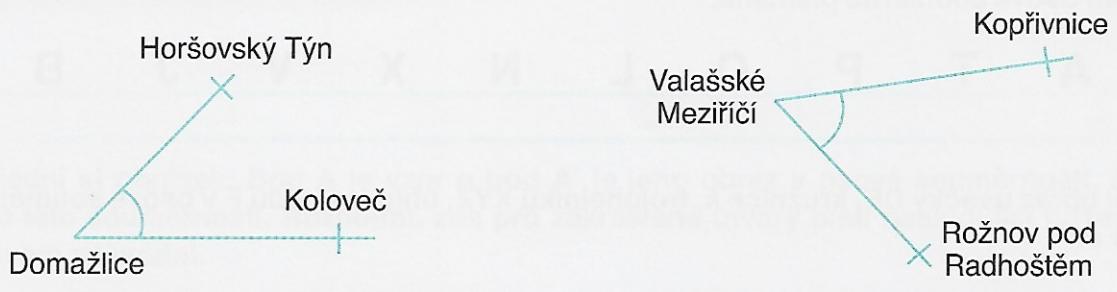
1. Nejprve odhadem a poté s pomocí průsvitky (fólie, průsvitného papíru) urči, které z následujících útvarů jsou shodné. Dvojice shodných útvarů zakroužkuj.



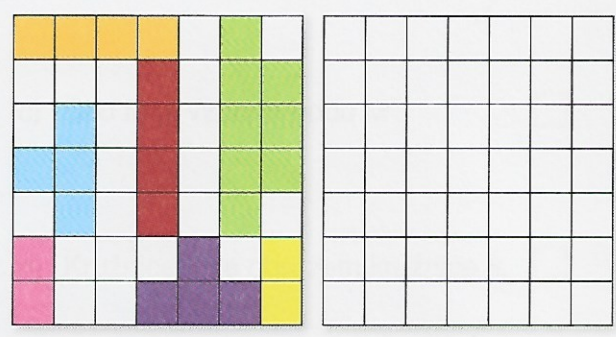
2. Shodné útvary označ stejnou barvou.



3. Jan se rozhodl navštívit známá města České republiky. Zjisti pomocí průsvitky, zda se mu podaří navštívit Rožnov pod Radhoštěm i Kopřivnici, jestliže se pohybuje ze svého stanoviště pod stejným úhlem jako z Domažlic.



4. Hraješ hru lodě. Překresli na pravou čtverečkovou síť lodě tak, aby obě sítě s loděmi byly shodné.



5. Rovnostranný trojúhelník ABC rozděl řezem tak, aby obě jeho části byly shodné. Napadne tě více variant?

